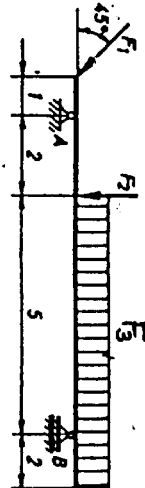
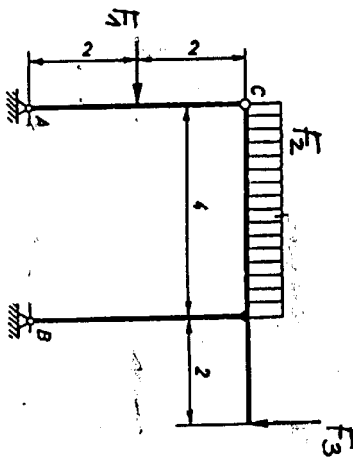
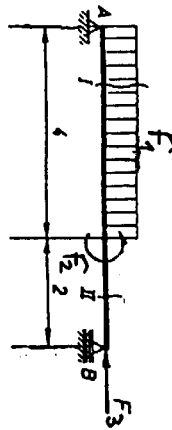
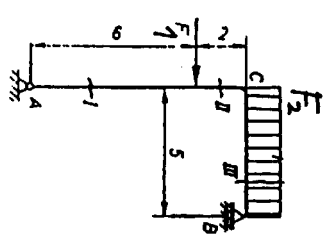


## NOSILCI

Določite reakcije v podporah in notranje sile v nosilcih prikazanih štirih konstrukcij. Rezultate prikažite z diagrami notranjih sil.



Velikost sil  $F_1$ ,  $F_2$ ,  $F_3$ ,  $F_4$  je določena z vašo vpisno številko:  $F_1$  = prvi par cifer,  $F_2$  = drugi par cifer,  $F_3$  = tretji par cifer,  $F_4$  = četrti par cifer.

**Rok za oddajo naloge: 3. november 2010 do 8.15 ure.**