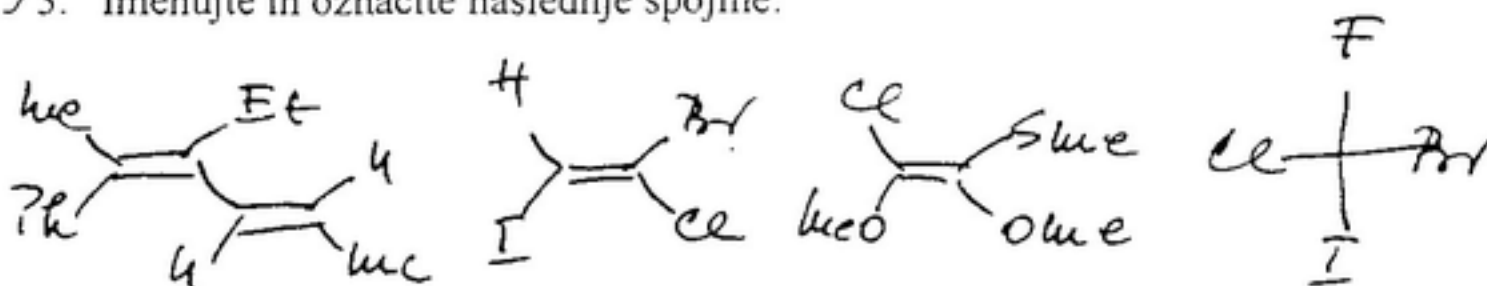



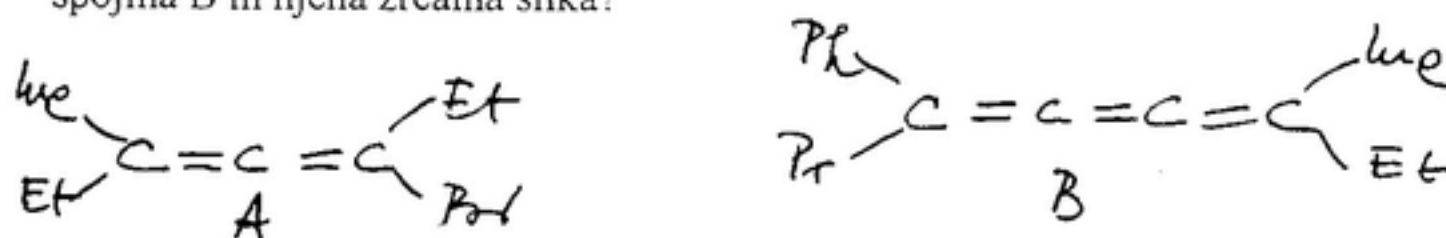
1. Kako definiramo aromatski značaj? Navedite nekaj primerov.
2. Kako označujemo razporeditev skupin okrog C=C in C=N dvojnih vezi? Navedite primere.
3. Imenujte in označite naslednje spojine:



4. Napišite naslednje spojine v Fischerjevi projekciji. Določite konfiguracije na kiralnih centrih.



5. V kakšnem sorodstvu sta spojina A in njena zrcalna slika? V kakšnem sorodstvu sta spojina B in njena zrcalna slika?



6. Kako vplivajo skupine, ki so vezane na α -mestu na kislost karboksilnih kislin? Kako vplivajo skupine, ki so vezane v aromatskem obroču na kislost aromatskih kislin?
7. Kakšne baze uporabljamo za tvorbo karboanionov?