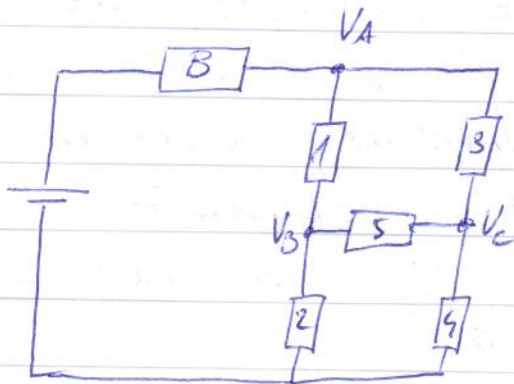
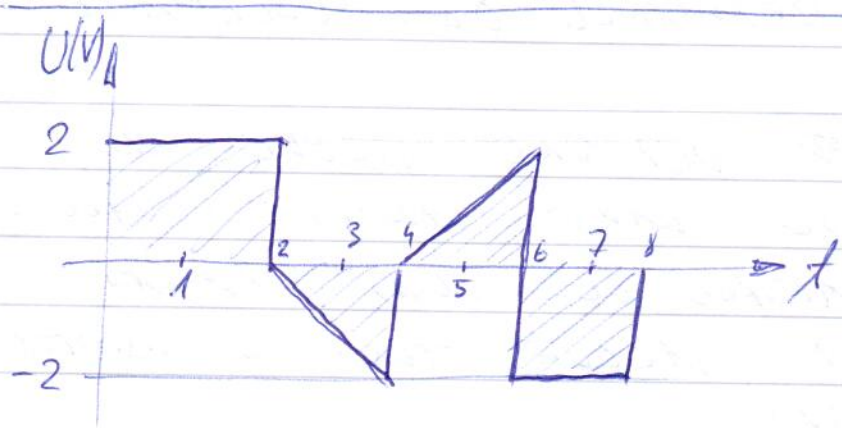


1.

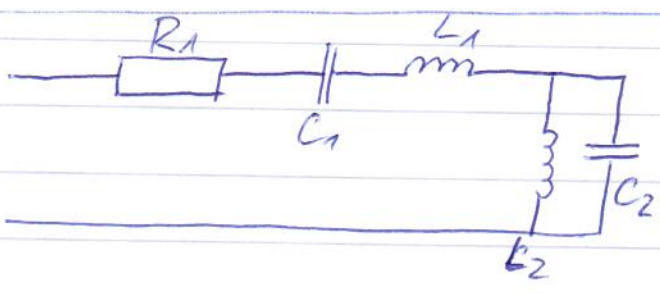


ZAPISI ZNANE
 TOKOVE V MATRIKI
 IZ TE OBLIKE ZAPISI
 VEJNE TOKOVE IN
 IZ VEJNIM TOKOM
 ZAPISI POTENCIALNE
 A, B IN C.



- ZAPISI FUNKCIJO TAKE NABETOSTI
- ZAPISI ENAČBE ZA IZRAČUN SREDNJE IN EFektivNE VREDNOSTI TAKE NABETOSTI.
- IZRAČUNAJ U_{sr} IN U_{rms} .

3.



IZRAČUNAJ NADOMESTNO IMPEDANCO IN ADMITANCO
 ZA ZG. VEZJE TBR JO PREDSTAVI ZA 2

- VZPOREDNO VEZANA ELEMENTA
- ZAPOREDNO -||-

